

# DEGREE LEVEL

COMMON EXAM HELD ON 13.11.2021

QN. BOOKLET ALPHA CODE: D

01. മൂന്നു സംഖ്യകളുടെ ഗുണനഫലം 100 ആണ്. ഇവ കൂട്ടിയാൽ കിട്ടുന്ന സംഖ്യയുടെ അവസാനത്തെ അക്കം 3 ആണ്. അങ്ങനെയെങ്കിൽ ഇവയിൽ രണ്ടാമത്തെ സംഖ്യ ഏത്?

- a) 2
- b) 4
- c) 10
- d) 20

02. രാജു ഒരു സൈക്കിൾ വാങ്ങി ഒരു വർഷത്തിനുശേഷം 20% വിലക്കുറവിൽ വിറ്റു. ആ സൈക്കിൾ 10% വിലക്കുറവിൽ രാജുവിന് 100 രൂപ അധികം കിട്ടിയേനെ. എങ്കിൽ താഴെ കൊടുത്തിരിക്കുന്ന സംഖ്യകളിൽ ഏതാണ് രാജുവിന്റെ സൈക്കിൾ വില?

- a) Rs. 1000
- b) Rs. 1200
- c) Rs. 1500
- d) Rs. 2000

03.  $1/3$ ,  $5/7$ ,  $2/9$ ,  $9/14$ ,  $7/12$  ഈ സംഖ്യകൾ ആരോഹണ ക്രമത്തിൽ എഴുതിയാൽ നമുക്ക് കിട്ടുന്ന സംഖ്യ ഏത്?

- a)  $2/9, 1/3, 7/12, 9/14, 5/7$
- b)  $2/9, 1/3, 7/12, 5/7, 9/14$

- c)  $1/3, 9/14, 5/7, 2/9, 7/12$
- d)  $2/9, 7/12, 1/3, 9/14, 5/7$

04. ഒരു ആശുപത്രി വാർഡിൽ 25% ആളുകൾ കോവിഡ്-19 ബാധിതരാണ്. ഇതിൽ 100 പേർ പുരുഷന്മാരും 10 പേർ ട്രാൻസ്ജെൻഡേർ സും ബാക്കി സ്ത്രീകളും ആണ്. ആ വാർഡിൽ 300 സ്ത്രീകൾ ഉണ്ടായിരുന്നെങ്കിൽ അവർ മൊത്തം ജനങ്ങളുടെ 50% വരുമായിരുന്നു. അങ്ങനെയെങ്കിൽ എത്ര സ്ത്രീകൾ രോഗബാധിതർ ആണ്?

- a) 30
- b) 35
- c) 40
- d) 45

05. 2 വർഷത്തേക്ക് 10.5% ലഘു പലിശയിൽ നിക്ഷേപിച്ചിരിക്കുന്ന തുകയ്ക്ക് 2 വർഷത്തേക്ക് കിട്ടുന്ന കൂട്ടുപലിശയും തുല്യ സംഖ്യതന്നെയാണ്. അങ്ങനെയെങ്കിൽ കൂട്ടുപലിശ എത്ര ശതമാനം ആണ്?

- a) 9.75%
- b) 10%
- c) 10.25%
- d) 10.5%

CAREER GUIDANCE BUREAU - KERALA'S No. 1 PSC COACHING CENTRE

ATTINGAL

# CAREER GUIDANCE BUREAU

NO. 1 RESULT MAKERS IN KPSC EXAMS

ATTINGAL & THAMPANOOR - 8590 333 999

06. കമ്പ്യൂട്ടറിന്റെ CPU വിലെ താൽക്കാലിക ദൃതവേഗസംഭരണ സ്ഥലം അറിയപ്പെടുന്നത്.

a) RAM

**b) റെജിസ്റ്റർ**

c) ഹാർഡ് ഡിസ്ക്

d) ROM

07. താഴെ പറയുന്നവയിൽ ഏതാണ് ഇൻപുട്ട് ഡിവൈസ്?

**a) OMR**

b) പ്ലോട്ടർ

c) പ്രിന്റർ

d) സ്പീക്കർ

08. ഒരു നെറ്റ്വർക്കിലെ കമ്പ്യൂട്ടറിലെ ഹാർഡ്വെയർ ഘടകം പരിഗണിക്കാതെ ഡാറ്റയുടെ ഒഴുക്ക് നിയന്ത്രിക്കാൻ ഉപയോഗിക്കുന്ന വയർലെസ് ടോപ്പോളജി

a) മോഡം

**b) റൂട്ടർ**

c) NIC

d) ബ്രിഡ്ജ്

**കൂടാതെ ഓപ്ഷന (a) യും (d) യും ഉത്തരങ്ങളാകാം.**

09. ഒരു പ്രോഗ്രാം സമർപ്പിക്കുന്നതിനും, അത് പൂർത്തിയാക്കുന്നതിനും CPU എടുക്കുന്ന സമയമാണ്

a) വെയ്റ്റിംഗ് സമയം

b) സീക്ക് സമയം

c) ലേറ്റൻസി സമയം

**d) ടേൺ ഏറൗണ്ട് സമയം**

10. താഴെ പറയുന്നവയിൽ ഏത് HTML ടാഗ് ആണ് ഡ്രോപ്പ് ഡൗൺ ലിസ്റ്റ് ഉണ്ടാക്കുവാൻ ഉപയോഗിക്കുന്നത്?

a) <INPUT> tag

**b) <SELECT> tag**

c) <LI> tag

d) <DI> tag

11. ഒരു ട്രെയിൻ എല്ലാ വ്യാഴാഴ്ചയും ശനിയാഴ്ചയും ഓടുന്നു. 2020-ൽ ജനുവരി ഒന്ന് ഒരു ബുധനാഴ്ച ആണെങ്കിൽ 2020-ൽ എത്ര പ്രാവശ്യം ആ ട്രെയിൻ ഓടിയിട്ടുണ്ടാവും?

a) 102

**b) 103**

c) 104

d) 105

12. 5 മണിക്ക് ശേഷം എത്ര മിനിറ്റിനു ശേഷം ആയിരിക്കാം ക്ലോക്കിന്റെ മിനിട്ട് സൂചി മണിക്കൂർ സൂചിയെ ആദ്യമായി കടന്നു പോയത്?

a) 5:26

**b) 5:27**

c) 5:28

d) 5:29

13. A 40 മീറ്റർ തന്റെ ഓഫീസിൽ നിന്നും വടക്കു ദിശയിലേക്ക് നടക്കും. അതിനുശേഷം വലത്തോട്ടു തിരിഞ്ഞു 8 മീറ്റർ വീണ്ടും നടക്കും. വീണ്ടും വലത്തോട്ടു തിരിഞ്ഞു 34 മീറ്റർ നടക്കും അങ്ങനെയെങ്കിൽ A ഇപ്പോൾ തന്റെ ഓഫീസിൽ നിന്നും എത്ര ദൂരത്താണ്?

a) 8

**b) 10**

c) 12

d) 14

14. ഒരു സൂരക്ഷാ സിസ്റ്റത്തിൽ 3 എന്ന അക്കം 7 ആയും 4 എന്നത് 14 ആയും 5 എന്നത് 24 ആയും മാറ്റിയിരിക്കുന്നു. അങ്ങനെയെങ്കിൽ 6 നും 7 നും പകരം ഉപയോഗിക്കുന്ന സംഖ്യകൾ ഏതൊക്കെയായിരിക്കും?

**a) 34, 47**

b) 34, 37

c) 31, 41

d) 36, 50

**5 എന്നത് 23 ആയും മാറ്റിയിരിക്കുന്നു എന്നാണ് ചോദ്യത്തിൽ വരേണ്ടത്.**

15. 'A' യ്ക്ക് 'B' യേക്കാൾ മാർക്ക് കൂടുതലുണ്ട്. 'B'യ്ക്ക് 'D' യേക്കാൾ കുറഞ്ഞ മാർക്ക് ആണ്. എന്നാൽ 'E' യേക്കാളും ഉയർന്ന മാർക്ക് ഉണ്ട്. ഇതിൽ 'C' യ്ക്ക് 'D'യേക്കാൾ ഉയർന്ന മാർക്കുണ്ട്. എങ്കിൽ താഴെ പറയുന്നവയിൽ ഏതാണ് ശരി?

a) 'C' യ്ക്ക് ആണ് ഏറ്റവും കുറഞ്ഞ മാർക്ക്

**b) 'B' യ്ക്ക് ആണ് ഏറ്റവും കുറഞ്ഞ മാർക്ക്**

c) 'A' യ്ക്ക് ആണ് ഏറ്റവും കുറഞ്ഞ മാർക്ക്

**d) 'E' യ്ക്ക് ആണ് പുകിൽ നിന്ന് 2-ാം സ്ഥാനം**

16. താഴെ പറയുന്നവയിൽ ഏതാണ് മൃഗശ്വദേഹത്തിന്റെ ഭരണകാലത്ത് 'സ്ഥലം' എന്ന വാക്കിനു പകരം ഉപയോഗിക്കാത്ത വാക്ക്?

**a) കരോരി**

- b) ജാഗിർ
- c) പാരതി
- d) ഇനാം

17. താഴെ കൊടുത്തിരിക്കുന്നവയിൽ ഏത് പ്രസ്താവന/പ്രസ്താവനകൾ ആണ് ശരിയായിട്ടുള്ളത്?

- (i) 'ഷുഗർ ആക്ട്' അമേരിക്കൻ വിപ്ലവവുമായി ബന്ധപ്പെട്ടിരിക്കുന്നു.
- (ii) 'ഗ്രീൻ റിബൺ ക്ലബ്ബ്' ഇംഗ്ലീഷ് വിപ്ലവവുമായി ബന്ധപ്പെട്ടിരിക്കുന്നു.
- (iii) 'ട്രി പീപ്പിൾസ് പ്രിൻസിപ്പിൾസ്' ചൈനീസ് വിപ്ലവവുമായി ബന്ധപ്പെട്ടിരിക്കുന്നു.
- (iv) 'ടെൻ ഡെയ്സ് ദാറ്റ് ഷൂക്ക് ദ വേൾഡ്' ഫ്രഞ്ച് വിപ്ലവവുമായി ബന്ധപ്പെട്ട് കിടക്കുന്നു.

**a) (i) , (ii) ഉം (ii) ഉം**

- b) (i) , (ii) ഉം (iv) ഉം
- c) (ii), (iii) ഉം (iv) ഉം
- d) (iv) മാത്രം

18. താഴെ പറയുന്ന ഏത് പ്രസ്താവന/പ്രസ്താവനകൾ ആണ് UNO യെ സംബന്ധിച്ച് തെറ്റായിട്ടുള്ളത്?

- (i) ദേശീയ പരമാധികാരവും, വൻശക്തി കോർപ്പറേഷനുമായി ബന്ധപ്പെട്ടാണ് UNO എന്ന ആശയം നിലവിൽ വന്നത്.
- (ii) UNO യുടെ ലക്ഷ്യം ആർട്ടിക്കിൾ -1 എന്ന UN ചാർട്ടറിൽ നിർവ്വചിച്ചിരിക്കുന്നു.
- (iii) WTO (വേൾഡ് ട്രേഡ് ഓർഗനൈസേഷൻ) UNO യുടെ സ്പെഷ്യലൈസ്ഡ് ഏജൻസി ആണ്.
- (iv) UNO രൂപീകരിച്ചത് അന്തർദേശീയ സമാധാനവും സുരക്ഷയും മുന്നിൽ

കണ്ടു കൊണ്ടാണ്.

- a) (i) , (ii) ഉം (ii) ഉം
- b) (i) , (iii) ഉം (iv) ഉം
- c) (ii), (iii) ഉം (iv) ഉം

**d) (iii) മാത്രം**

19. താഴെ പറയുന്ന ഏത് പ്രസ്താവന / പ്രസ്താവനകൾ ആണ് ശരിയായിട്ടുള്ളത്?

- (i) ടെന്നീസ് കോർട്ട് സത്യം ഫ്രഞ്ച് വിപ്ലവവുമായി ബന്ധപ്പെട്ടിരിക്കുന്നു.
- (ii) 'ടെയ്ലി', 'റ്റിത്തേ', 'ഗബല്ലേ' എന്നീ പദങ്ങൾ ഫ്രഞ്ച് വിപ്ലവകാലത്ത് ഫ്രാൻസിൽ നികുതിയെ സൂചിപ്പിക്കാൻ ഉപയോഗിച്ചിരുന്നു.
- (iii) 'ദി ഫ്രണ്ട് ഓഫ് ഔവർ കൺട്രി' എന്നത് ഫ്രഞ്ച് വിപ്ലവകാലത്തെ വിമതരുടെ ജേർണൽ ആയിരുന്നു.
- (iv) 'പ്രൈഡ്സ് പർജ്' ഫ്രഞ്ച് വിപ്ലവവുമായി ബന്ധപ്പെട്ടിരിക്കുന്നു.

**a) (i) , (ii) ഉം (iv) ഉം**

**b) (i), (ii) ഉം (iii) ഉം**

- c) (ii), (iii) ഉം (iv) ഉം
- d) (i) , (iii) ഉം (iv) ഉം

20. ദേശീയ ഭക്ഷ്യ സുരക്ഷാ ബിൽ സംബന്ധിക്കുന്ന താഴെ പറയുന്ന പ്രസ്താവനകൾ വായിക്കുക.

- (i) ഈ ബില്ലിന്റെ ലക്ഷ്യം പാവപ്പെട്ടവർക്കുള്ള ഭക്ഷണത്തിന്റെ സബ്സിഡിയാണ്.
- (ii) ഈ ബിൽ ആദ്യമായി നിലവിൽ വന്നത് രാജസ്ഥാനിൽ ആണ്.
- (iii) AAY (അന്തിയോദയ അന്ന യോജന) ഈ ബില്ലിന്റെ വിപുലീകരണം ആണ്.
- (iv) പൊതുവിതരണ സംവിധാനം കേന്ദ്രഗവൺമെന്റും സംസ്ഥാന ഗവൺമെന്റും ഒന്നിച്ചു നടത്തുന്നു.

- a) (i) , (ii) ഉം (iii) ഉം
- b) (ii) , (iii) ഉം (iv) ഉം

**c) (i), (ii), (iii) ഉം (iv) ഉം**

- d) (i) , (ii) ഉം (iv) ഉം

21. നാല് മുന്നകസംഖ്യകളുടെ ശരാശരി 335 ആയി കണക്കാക്കിയിരിക്കുന്നു. എന്നാൽ അതിൽ '8' എന്ന അക്കം ഒരു സംഖ്യയുടെ

രണ്ടാം സ്ഥാനത്തും, മറ്റൊരു സംഖ്യയുടെ മൂന്നാം (അവസാന) സ്ഥാനത്തും ആണ് ഉള്ളത്. ഇത് '3' എന്ന് തെറ്റായി വായിച്ചു എന്ന് മനസ്സിലാക്കി. ഈ തെറ്റ് പരിഹരിച്ചാൽ ഈ നാലു സംഖ്യകളുടെ ശരാശരി എത്ര ആയിരിക്കും?

- a) 340.55
- b) 348.75**
- c) 350.5
- d) 355.75

22. 220 സ്ക്വയർ ഫീറ്റ് വ്യാപ്തിയുള്ള ഒരു തറയിൽ ടൈൽസ് ഇടുന്നതിനായി  $2 \times 2$  ഫീറ്റ് ഉം  $4 \times 2$  ഫീറ്റും വിസ്തീർണ്ണമുള്ള ടൈൽസ് ലഭ്യമാണ്. ഈ ടൈൽസിന്റെ (1 എണ്ണം) വില 50 രൂപയും 80 രൂപയും ആണ്. അങ്ങനെയെങ്കിൽ ആ തറയിൽ ടൈൽ പതിപ്പിക്കാനുള്ള ഏറ്റവും കുറഞ്ഞ ചിലവ് എത്ര ആവും?

- a) Rs. 2150
- b) Rs. 2210
- c) Rs. 2230**
- d) Rs. 2240

23. രാജു 20 ദിവസത്തിൽ പൂർത്തിയാക്കുന്ന ജോലി റാണി 15 ദിവസത്തിൽ പൂർത്തിയാക്കും സാഹിൽ അത് 12 ദിവസത്തിൽ പൂർത്തിയാക്കും. ഇവർ മൂവരും 2 ദിവസം ഈ ജോലി ചെയ്തതിനുശേഷം ബാക്കി ജോലി രാജുമാത്രം തുടരുന്നു വെങ്കിൽ രാജുവിന് എത്ര ദിവസം അധികമായി വേണ്ടി വരും?

- a) 8
- b) 10
- c) 12**
- d) 14

24. A യും B യും നിക്ഷേപ റേഷ്യോ 5:10 ൽ ഒരു ബിസിനസ്സ് തുടങ്ങി. C ഈ കൂട്ടായ്മയിൽ പിന്നീട് വരികയും 20000 രൂപ നിക്ഷേപിക്കുകയും ചെയ്തു. അതേ സമയം A യും B യും 2000 വീതം നിക്ഷേപിച്ചു. ഇപ്പോൾ A, B, C യുടെ നിക്ഷേപ റേഷ്യോ 10:15:25 ആണ്. അങ്ങനെയെങ്കിൽ A ആദ്യം നിക്ഷേപിച്ചത് എത്ര?

- a) 4000

- b) 5000
- c) 5500
- d) 6000**

25. 100 മീറ്റർ നീളമുള്ള ഒരു ട്രെയിൻ 20 സെക്കന്റിൽ ഒരു പാലത്തിലൂടെ കടന്നു പോകും. ആ ട്രെയിനിന്റെ സ്പീഡ് 10 മീ/സെക്കന്റ് കൂട്ടിയാൽ ട്രെയിൻ പാലത്തിലൂടെ 10 സെക്കന്റിൽ കടന്നു പോകും. അങ്ങനെയെങ്കിൽ പാലത്തിന്റെ നീളം എത്ര?

- a) 70
- b) 80
- c) 90
- d) 100**

26. GDP-യുടെ ഘടക ചിലവ്

- a) GDP at MP - അറ്റ പരോക്ഷ നികുതി**
- b) GDP at MP - മൂല്യത്തകർച്ച
- c) GDP at MP + അറ്റ ഉൽപ്പന്ന നികുതി
- d) GDP at MP + അറ്റ വിദേശ നികുതി

27. ഉത്പാദന ഘടകങ്ങളിൽ നിഷ്ക്രിയമായത് ഏത്?

- a) സ്ഥലം/ഭൂമി
- b) അധ്വാനം
- c) മൂലധനം

**d) സ്ഥലവും മൂലധനവും**

28. താഴെ പറയുന്നവയിൽ ഏതാണ് സമ്പത്ത് വ്യവസ്ഥയിൽ സമ്പത്തിന്റെ വിതരണം കുറയ്ക്കുന്നത്?

- a) ഗവൺമെന്റ് സെക്യൂരിറ്റീസിനെ RBI വാങ്ങുന്നത്.

**b) ഗവൺമെന്റ് സെക്യൂരിറ്റീസിനെ RBI വിൽക്കുന്നത്.**

- c) കേന്ദ്രഗവൺമെന്റിന്റെ RBI യിൽ നിന്നുള്ള കടം വാങ്ങൽ
- d) ഇതൊന്നുമല്ല

29. റിപ്പോ റേറ്റിനെ പ്രതി താഴെ പറയുന്നവയിൽ ശരിയായത്/ ആയവ ഏത്?

- i) ഇത് എല്ലായ്പ്പോഴും ബാങ്കിന്റെ റേറ്റിൽ കുറവാണ്.
- ii) ഇത് വിപരീത റിപോ റേറ്റിനെക്കാൾ എപ്പോഴും ഉയർന്നതാണ്.
- iii) ഇത് ഹൃസ്വകാല സാമ്പത്തികാവശ്യങ്ങളെ കേന്ദ്രീകരിക്കുന്നു.

iv) ഇത് ഇടാക്കുമ്പോൾ പാർശ്വസ്ഥങ്ങൾ ഉണ്ടാവാറില്ല.

a) (i) ഉം (ii) ഉം മാത്രം

**b) (i) ഉം (ii) ഉം (iii) ഉം**

c) (i) ഉം (iii) ഉം മാത്രം

d) മുകളിൽ പറഞ്ഞവയെല്ലാം

30. ഫിസ്കൽ ഡെഫിസിറ്റ് (ധനക്കമ്മി) എന്നാൽ

a) മുഴുവൻ ചിലവ് - മുഴുവൻ വരുമാന രസീതുകൾ

**b) മുഴുവൻ ചിലവ് - (മുഴുവൻ വരുമാന രസീതുകൾ + കടമല്ലാത്ത മൂലധന രസീത്)**

c) മുഴുവൻ ചിലവ് - പലിശ അടച്ചതുക

d) മുഴുവൻ ചിലവ് - മുഴുവൻ വരുമാന രസീതുകൾ + മൂലധന രസീതുകൾ)

31. ലോക ഷൂട്ടിംഗ് ചാമ്പ്യൻഷിപ്പിൽ 'ചാമ്പ്യൻ ഓഫ് ചാമ്പ്യൻ' എന്ന തലക്കെട്ട് നേടിയത് ആരാണ്?

a) ജസ്‌പാൽ റാണ

b) അഭിനവ് ബിന്ദ്ര

c) മാൻഷാർ സിംഗ്

**d) അഞ്ജലി ഗേവൽ**

32. 2004 ഏതൻസ് ഒളിമ്പിക്സിൽ ജിന്നാസ്സികിൽ മോഹിനി ഭാരവാജ് ഒളിമ്പിക് മെഡൽ നേടിയത് ഏത് രാജ്യത്തിന് വേണ്ടിയാണ്?

a) ഇന്ത്യ

**b) അമേരിക്ക**

c) തായ്‌ലാന്റ്

d) നേപ്പാൾ

33. ഇന്ത്യയിലെ ആദ്യത്തെ വനിതാ ബോക്സിംഗ് റഫറി ആരാണ്?

**a) റസിയ ഷബ്നം**

b) മേരികോം

c) ഡൽഹി

d) ഹൈദരാബാദ്

34. 2003 ൽ ആഫ്രോ-ഏഷ്യൻ ഗെയിംസ് നടന്നത് ഇന്ത്യയിൽ എവിടെയാണ്?

a) കൽക്കട്ട

b) ചെന്നൈ

c) ഡൽഹി

**d) ഹൈദരാബാദ്**

35. ഐ.സി.സി വനിതാ വേൾഡ് കപ്പ് 2022 ലെ ഔദ്യോഗിക ഗാനം അറിയപ്പെടുന്നത് എങ്ങനെ?

a) റെയ്സ് മി അപ്പ്

**b) ഗേൾ ഗാങ്ങ്**

c) ന്യൂ റഷ്

d) സ്ക്വാഡ് ഗോൾസ്

36. '+' നു പകരം 'x' ആണെങ്കിൽ '-' എന്നത് '+' ആണെങ്കിൽ അതുപോലെ  $5+3-8 \times 2 = 19$  (ഇതുപോലെ തന്നെ) 'x' അർത്ഥമാക്കുന്നത്?

**a) ÷**

b) +

c) -

d) ഇതു കണ്ടുപിടിക്കാനാവില്ല

37. താഴെ പറയുന്നവയിൽ 'ഒറ്റ' ആയത് തിരഞ്ഞെടുക്കുന്നത്?

a) റേഡിയോ : സ്പീക്കർ

b) ഫോൺ : SIM കാർഡ്

c) CPU : പ്രോസസർ

**d) ചെടി : ചട്ടി**

38. COW എന്നത് ERAD എന്നും RAT എന്നത് TXXS എന്നും HEN എന്നത് JHRI എന്നും ആണെങ്കിൽ FOX എന്തായിരിക്കും

a) HSBF

**b) HRBG**

c) GTCD

d) GPZA

39. P, Q, R എന്നിവരുടെ സഹോദരി ആണ് 'C', 'Q' വിന്റെ അച്ഛൻ 'D' ആണ്. 'P' എന്നയാൾ 'Y'യുടെ പുത്രനാണ്. അങ്ങനെയെങ്കിൽ താഴെ പറയുന്നവയിൽ ഏതാണ് ശരി?

a) 'R' എന്നയാൾ 'D' യുടെ പുത്രിയാണ്.

b) 'Q' എന്നയാൾ 'C' യുടെ സഹോദരി ആണ്.

c) 'Q' എന്നയാൾ 'Y' യുടെ പുത്രിയും 'P'യുടെ സഹോദരിയും ആണ്.

**d) 'C'യുടെ അമ്മയാണ് 'Y'**

40. ഒരു ഘടികാരം ഓരോ മണിക്കൂറിലും 1 മിനിട്ട് വീതം കൂടുതൽ ഓടും. 1 മണി ആയപ്പോൾ ഈ ക്ലോക്കിലെ സമയം ശരാശരി



ആത്മാർത്ഥ സേവനത്തിന്റെ... ഏകപക്ഷീയ വിജയങ്ങളുടെ... സത്യസന്ധമായ റിസൾട്ടുകളുടെ...  
അവിശ്വസനീയമായ വിജയശതമാനത്തിന്റെ രണ്ട് പതിറ്റാണ്ട് പൂർത്തിയാക്കിയ

# കേരളത്തിലെ No.1 റിസൾട്ട് സ്രഷ്ടാക്കൾ

48

എൽ.ഡി. ക്ലർക്ക്, അസിസ്റ്റന്റ്, എസ്.ഐ., LP / UP / HS / HSS ടീച്ചർ പരീക്ഷകളിലായി






























## ഒന്നാം റാങ്കുകൾ!

പതിനായിരത്തിലധികം സർക്കാർ ഉദ്യോഗസ്ഥർ

ആദ്യ 100 റാങ്കുകൾക്കുള്ളിൽ 2000 - ലേറെ പേർ!!!

കേരളത്തിലെ മറ്റൊരു സ്ഥാപനത്തിനും സ്വപ്നം കാണാൻ പോലും കഴിയാത്ത വിജയ പരമ്പര!!!

## ഒന്നാം റാങ്കുകാർ മാത്രം

 <b>ANJALI HARI</b> WOMEN EXCISE GUARD (TVM)	 <b>VINOD PH</b> HSST BOTANY (STATEWIDE)	 <b>SREERAJ GR</b> POSTMAN (KTM DIVISION)	 <b>SAFEENA BEEGUM S R</b> HIGH SCHOOL TEACHER (NATURAL SCIENCE-TVM)	 <b>SHYINI R V</b> HIGH SCHOOL TEACHER (NATURAL SCIENCE-MPM)	 <b>AKHILA V</b> LD CLERK KHADI BOARD	 <b>ANEES A.</b> HIGH SCHOOL TEACHER (SOCIAL STUDIES)	 <b>SMITHA T B</b> SECRETARIAT ASST. LDC (TVM), UP TEACHER	 <b>HENA R RAJ</b> SECRETARIAT ASST. UP TEACHER	 <b>SARANYA S NAIR</b> LD TYPIST (TVM) CLERK TYPIST (TVM)
 <b>SRE LEKSHMI S</b> VEO (IDUKKI)	 <b>LEKSHMI A S</b> HSA PHYSICAL SCIENCE	 <b>SHEEJA B</b> CLERK CO OPERATIVE SOCIETY	 <b>DURGA S</b> LGS (COMPANY-BOARD)	 <b>THASNIM RAHIM</b> VEO KOLLAM (MARK BASIS)	 <b>AMOLYA D S</b> CIVIL POLICE OFFICER (TVM)	 <b>RENJITH V S</b> MALE WARDEN (TSR)	 <b>SREEJESH V K</b> SI OF POLICE (STATEWIDE)	 <b>MANOJ MATHEW</b> SI OF POLICE (STATEWIDE)	 <b>ARUN KUMAR VR</b> SI OF POLICE (CONSTABULARY)
 <b>ASHA A. NAIR</b> INSTRUCTOR (SOCIAL JUSTICE) INSTRUCTOR (TECHNICAL EDN)	 <b>KARTHI R CHANDRAN</b> POSTAL ASSISTANT	 <b>SHEEJAMOL NR</b> LP TEACHER (TVM)	 <b>DEEPA VR</b> LP TEACHER (TVM)	 <b>REKHA V S</b> CLERK TYPIST (MALAPPURAM)	 <b>ANUSHA T</b> CLERK TYPIST (KOTTAYAM)	 <b>ANILKUMAR T</b> JR.ASSISTANT (IN TVM DIST)	 <b>NIJA FIRDOUSI J</b> SECRETARIAT COMPUTER ASST.	 <b>SANDHYA RAJ VR</b> VILLAGEMAN (TVM- MARK BASIS)	 <b>RATHEESH KUMAR T</b> CIVIL POLICE OFFICER (TVM)
 <b>MEGHA D</b> MATRON (TVM)	 <b>RANI A K</b> TYPIST (PKD)	 <b>DEEPTHIRANI PS</b> CIVIL SUPPLIES ASST.	 <b>SREERESHMI U</b> SC DEV.OFFICER (MARK BASIS)	 <b>REENAS M</b> HS TEACHER (SOCIAL - TVM)	 <b>VINEETHA V S</b> LD CLERK (TVM)	 <b>SYAM RAJ R S</b> ASSISTANT (SBCID)	 <b>SOORYA GAYATHRI S S</b> UNIVERSITY ASST. (IN TVM DISTRICT)	 <b>ASWATHI C S</b> LP TEACHER (TVM)	 <b>REMYA BAHULEYAN</b> LP TEACHER (KTM)
				 <b>MAHESHKUMAR N</b> CIVIL POLICE OFFICER (Telecommunications)					

live Interactive & Offline Classes

10th Level, Plus 2 Level and Degree Level Exams | HSA (Social Studies, Natural Science and English) | Statistical Assistant and KSR.

AN ISO 9001:2015 CERTIFIED INSTITUTION

0470-2621106



# കരിയർ ഗൈഡൻസ് ബ്യൂറോ

ആറ്റിങ്ങൽ | തമ്പാനൂർ ☎ 8590 333 999 | 8590 557 799

Please visit [www.careerguidancebureau.com](http://www.careerguidancebureau.com) to view our latest results & daily updates



പുനഃസ്ഥാപിച്ചു. ഇപ്പോൾ കണ്ണാടിയിൽ ക്ലോക്ക് കാണിച്ചു സമയം (മിറർ ഇമേജ്) 4:33 ആണെങ്കിൽ ഏകദേശ സമയം എത്രയായിരിക്കും?

a) 4:29

b) 7:15

**c) 7:20**

d) 8:17

41. ഇന്റർനാഷണൽ യൂണിയൻ ഫോർ കൺസർവേഷൻ ഓഫ് നേച്ചർ (IUCN) ന്റെ ഹെഡ് ക്വാർട്ടേഴ്സ് സ്ഥിതി ചെയ്യുന്നതെവിടെയാണ്

a) ന്യൂയോർക്ക്

**b) സിറ്റ്സർലാന്റ്**

c) നൈറോബി

d) പാരീസ്

42. പരിസ്ഥിതി മാനേജ്മെന്റ് സിസ്റ്റത്തിന്റെ നിയന്ത്രണ ചട്ടക്കൂട് താഴെ പറയുന്നവയിൽ ഏതാണ്?

**a) ISO 14001**

b) ISO 14011

c) ISO 14021

d) ISO 14061

43. ബയോ ഇന്ധനം കൊണ്ട് ഓടിച്ച ആദ്യത്തെ റോക്കറ്റ് ഏതാണ്?

a) CMS-01

**b) STARDUST 1.0**

c) EOS -01

d) CAROSAT-3

44. DRDO ഇന്ത്യൻ ആർമിക്കുവേണ്ടി നിർമ്മിച്ചെടുത്ത ഒരേ സമയം ഒന്നിലധികം റോക്കറ്റുകൾ വിക്ഷേപിക്കാനുതകുന്ന ലോഞ്ചർ ഏതാണ്?

a) ത്രിശൂൽ

b) കോമ്പ്രാ

c) അർജുൻ

**d) പിനാകാ**

45. താഴെ പറയുന്നവയിൽ ഏതാണ് പുതുക്കാവുന്ന ഊർജ്ജത്തിന്റെ ഉറവിടം?

a) നാച്യുറൽ ഗ്യാസ്

b) ഫോസിൽ ഫ്യൂവൽ

c) ന്യൂക്ലിയാർ എനർജി

#### **d) സോളാർ എനർജി**

46. താഴെ പറയുന്ന പ്രസ്ഥാവനകൾ ശ്രദ്ധിക്കുക പ്രസ്ഥാവന A : ദക്ഷിണാർദ്ധ ഗോളത്തിലെ പശ്ചിമവാതങ്ങൾ കൂടുതൽ ശക്തിയുള്ളതും ആക്രമണാസക്തവും ആണ്.

പ്രസ്ഥാവന B : ദക്ഷിണാർദ്ധ ഗോളത്തിലെ പശ്ചിമവാതങ്ങൾ ഉയരാത്ത സമുദ്ര പ്രതലത്തിലൂടെ ചരിക്കുന്നു.

താഴെ കൊടുത്തിരിക്കുന്നവയിൽ ശരി കണ്ടെത്തുക

a) പ്രസ്ഥാവന A ശരി B തെറ്റ്

b) പ്രസ്ഥാവന B ശരി A തെറ്റ്

c) രണ്ടു പ്രസ്ഥാവനകളും തെറ്റ്

**d) രണ്ടു പ്രസ്ഥാവനകളും ശരി, പ്രസ്ഥാവന B പ്രസ്ഥാവന A യെ വിശദീകരിക്കുന്നു.**

47. 'പാറ്റ് ലാൻഡ്സ്' എന്തിന്റെ സമ്പഭാവ സവിശേഷതയാണ്?

a) അരാബ്സ്

**b) ഛോട്ടാ നാഗ്പൂർ പ്രവിശ്യ**

c) കാശ്മീർ ഹിമാലയ

d) താർ മരുഭൂമി

48. 'ഇസോഹാ ലൈൻസ്' എന്നാൽ ഒരേപോലുള്ള ..... നെ ബന്ധിപ്പിക്കുന്ന വരകളാണ്.

a) മേഘാവരണം

**b) ലവണാംശം**

c) സൂര്യരശ്മി

d) ഭൂകമ്പ തരംഗങ്ങൾ

49. പശ്ചിമഘട്ടത്തേക്കുറിച്ചുള്ള താഴെ പറയുന്ന പ്രസ്താവനകളിൽ ശരിയായത് ഏത്?

a) പശ്ചിമഘട്ടം ഒരു ഇളം മടങ്ങ് മലനിരകളാണ്

b) പശ്ചിമഘട്ടം മൂന്നാമത്തെ കാലയളവിലാണ് രൂപീകൃതമായത്.

**c) പശ്ചിമഘട്ടം ഒരു എസ്കാർപ്മെന്റ് ആണ്.**

d) പശ്ചിമഘട്ടം പാറകളുടെ അവശിഷ്ടം കൊണ്ട് നിർമ്മിക്കപ്പെടുന്നു.

50. താഴെ പറയുന്നവയിൽ ഏതാണ് GIS സോഫ്റ്റ് വെയറിന്റെ തുറന്ന സ്രോതസ്?

**a) QGIS**

- b) Map Info
- c) Arc GIS
- d) ERDAS

51. താഴെ കൊടുത്തിരിക്കുന്ന വാചകങ്ങൾ വായിക്കുക.

- i. തിരുവിതാംകൂറിൽ 'പതിവുകണക്ക്' ആരംഭിച്ചത് മാർത്താണ്ഡവർമ്മ ആണ്.
- ii. സ്വാതിതിരുനാൾ രാമവർമ്മ 'ശുചീന്ദ്രം കൈമുക്ക്' നിർമ്മാണമാക്കി.
- iii. തിരുവിതാംകൂറിൽ സേതുലക്ഷ്മീഭായി തമ്പുരാട്ടിയുടെ ഭരണകാലത്ത് ദേവദാസി സമ്പ്രദായം നിർമ്മാണമാക്കി
- iv. സേതുലക്ഷ്മീഭായി തമ്പുരാട്ടിയുടെ ഭരണകാലത്ത് തിരുവിതാംകൂറിൽ അടിമത്തം നിർമ്മാണമാക്കി

താഴെ പറയുന്ന ഉത്തരങ്ങളിൽ ശരിയായത് തിരഞ്ഞെടുക്കുക.

- a) മുകളിൽ പറഞ്ഞത് എല്ലാം
- b) i ഉം ii ഉം മാത്രം
- c) i ഉം ii ഉം iii ഉം മാത്രം**
- d) i ഉം ii ഉം iv ഉം മാത്രം

52. താഴെ കൊടുത്തിരിക്കുന്നവയിൽ ഏതൊക്കെയാണ് ശരിയായി ചേരുന്നത്?

- i. കെ.പി. വള്ളോൻ - പുലയമഹാസഭ
- ii. അയ്യപ്പക്കുറുപ്പൻ - ഉച്ചി പതിപ്പ്
- iii. സി.പി. അച്യുതമേനോൻ - വിദ്യാവിനോദിനി
- iv. ടി.കെ. മാധവൻ - ധന്വന്തരി
- a) i ഉം ii ഉം iv ഉം
- b) i ഉം ii ഉം iii ഉം**
- c) i ഉം ii ഉം iii ഉം iv ഉം
- d) i മാത്രം

53. ഉത്തരവാദിത്വമുള്ള കേരള ഗവൺമെന്റിനെപ്പറ്റി താഴെ പറയുന്നവയിൽ ഏതാണ് ശരിയായിട്ടുള്ളത്?

- i. ട്രാവൻകൂർ സ്റ്റേറ്റ് കോൺഗ്രസിന്റെ ആദ്യത്തെ പ്രസിഡന്റായിരുന്നു പട്ടം എ. താണുപിള്ള
- ii. കേരളത്തിൽ ഉത്തരവാദിത്വമുള്ള ഗവൺമെന്റ് രൂപീകരണത്തിനായുള്ള സമരങ്ങളെപ്പറ്റി എഴുതിയിട്ടുള്ള പുസ്തകം ആണ് ധർമ്മ രാജ്യം
- iii. അക്കാമ്മചെറിയാന്റെ പേര് ഉത്തരവാദിത്വമുള്ള കേരള ഗവൺമെന്റുമായി

ബന്ധപ്പെട്ടു കിടക്കുന്നു  
iv. ട്രാവൻകൂർ സ്റ്റേറ്റ് കോൺഗ്രസ് ഗാനം രചിച്ചത് ആർ. സുഗതൻ ആണ്.

- a) i ഉം ii ഉം iii ഉം
- b) i ഉം ii ഉം iv ഉം**
- c) i ഉം ii ഉം iii ഉം iv ഉം
- d) ii ഉം iii ഉം iv ഉം

54. താഴെ പറയുന്നവയിൽ ഏതാണ് ഒരേ വിഭാഗത്തിൽ പെടാത്തത്?

- i. ഉൽഗുലാൻ മുവ്വമെന്റ്
- ii. സഫാ ഹാർ മുവ്വമെന്റ്
- iii. കചനഗാ നാഗാ റിബലിയൻ
- iv. ഗാധാർ മുവ്വമെന്റ്
- a) i മാത്രം
- b) ii മാത്രം
- c) iii മാത്രം
- d) iv മാത്രം**

55. ചിപ്കോ മുവ്വമെന്റുമായി ബന്ധപ്പെടുത്തിയാൽ താഴെ പറയുന്നവയിൽ ഏത് പ്രസ്ഥാനവയാണ് ശരിയല്ലാത്തത്?

- i. ചിപ്കോ മുവ്വമെന്റ് ഒരു കാർഷിക മുവ്വമെന്റ് ആണ്
- ii. ചിപ്കോ മുവ്വമെന്റ് സർവ്വോദയ മുവ്വമെന്റിൽ നിന്നും പ്രചോദനം ഉൾക്കൊണ്ടു
- iii. ചിപ്കോ മുവ്വമെന്റിന്റെ പ്രധാനപ്പെട്ട നേതാവായിരുന്നു ഗൗരാ ദേവി
- a) i മാത്രം
- b) i ഉം ii ഉം
- c) i ഉം ii ഉം iii ഉം**
- d) മേൽപറഞ്ഞവയൊന്നുമല്ല

56. അത്യാഹിതം പ്രഖ്യാപിക്കുമ്പോൾ ആർട്ടിക്കിൾ 19 ഉറപ്പുനൽകുന്ന മൗലികാവകാശങ്ങൾ നിർമ്മാണമാക്കുന്ന ആർട്ടിക്കിൾ ഏതാണ്?

- a) ആർട്ടിക്കിൾ 352
- b) ആർട്ടിക്കിൾ 356
- c) ആർട്ടിക്കിൾ 358**
- d) ആർട്ടിക്കിൾ 359

57. താഴെ പറയുന്നവയിൽ ഏതാണ് ഇന്ത്യൻ ഭരണഘടനയുടെ കൺകറന്റ് ലിസ്റ്റിൽ ഉള്ളത്?

- a) ചരക്കുകളുടെ ഉത്പാദനവും വിതരണവും
- b) വർത്തമാനപത്രങ്ങൾ, പുസ്തകങ്ങൾ,**



**അച്ചടിപ്രസ്തുകൾ**

- c) ഖനികളുടേയും ധാതുക്കളുടേയും വികസനത്തിന്റെ നിയന്ത്രണം
- d) ഉന്നതവിദ്യാഭ്യാസം, ഗവേഷണം, ശാസ്ത്രീയസാങ്കേതിക സ്ഥാപനങ്ങൾ എന്നിവയുടെ മാനദണ്ഡങ്ങൾ

58. പൗരത്വം- ഏറ്റെടുക്കൽ, അവസാനിപ്പിക്കൽ എന്നിവ സംബന്ധിച്ച ഭേദഗതിക്ക് ആവശ്യമായത്

**a) പാർലമെന്റിന്റെ ലളിതമായ ഭൂരിപക്ഷം**

- b) പാർലമെന്റിന്റെ പ്രത്യേകമായ ഭൂരിപക്ഷം
- c) പാർലമെന്റിന്റെ പ്രത്യേക ഭൂരിപക്ഷവും സംസ്ഥാനങ്ങളുടെ സമ്മതവും
- d) ഒരു കോടതി ഉത്തരവ്

59. ഇന്ത്യൻ ഭരണഘടനയുടെ സ്റ്റേറ്റ് പോളിസി യുടെ ഡയറക്ടീവ് തത്വങ്ങൾ 'ഇൻസ്ട്രുമെന്റ് ഓഫ് ഇൻസ്ട്രക്ഷൻ' രേഖപ്പെടുത്തിയിരിക്കുന്നത്

- a) 1909-ലെ ഇന്ത്യാഗവൺമെന്റ് ആക്ട്
- b) 1919-ലെ ഇന്ത്യാഗവൺമെന്റ് ആക്ട്
- c) 1935-ലെ ഇന്ത്യാ ഗവൺമെന്റ് ആക്ട്**
- d) 1947-ലെ ഇന്ത്യാഗവൺമെന്റ് ആക്ട്

60. ഇന്ത്യൻ ഭരണഘടനയുടെ ഭേദഗതിപ്രകാരം, ഇനിപറയുന്നവയിൽ ഏത് വാദമാണ് ശരിയല്ലാത്തത്?

**a) ഭരണഘടനാ കൺവെൻഷനോ ഭരണഘടനാ അസംബ്ലിയോ പോലുള്ള ഒരു പ്രത്യേക ബോഡിക്ക് വ്യവസ്ഥയില്ല**

- b) ഭരണഘടനാ ഭേദഗതിക്ക് തുടക്കം കുറിക്കുവാനുള്ള അധികാരം പാർലമെന്റിന്റേതാണ്. അതായത് സംസ്ഥാനങ്ങളിൽ നിയമസഭാ സമിതികൾ സൃഷ്ടിക്കുകയും നിർത്തലാക്കുകയും ചെയ്യുന്നത്
- c) ഭരണഘടനാ ഭേദഗതിചെയ്യാൻ സമയപരിധി നിശ്ചയിച്ചിട്ടില്ലാ, അത് സംസ്ഥാന നിയമസഭകൾ അംഗീകരിക്കുകയോ നിരസിക്കുകയോ ചെയ്യാനും
- d) ഭരണഘടനാ ഭേദഗതി ബിൽ

പാസാക്കാൻ ബുദ്ധിമുട്ടായ അവസരങ്ങളിൽ പാർലമെന്റിന്റെ ഇരുസഭകളിലും സംയുക്തമീറ്റിംഗ് നടത്താൻ വ്യവസ്ഥയുണ്ട്.

61. “കേരളം - മണ്ണും മനുഷ്യരും” എന്ന പുസ്തകം എഴുതിയത് ആര്?

- a) പി.ഗോവിന്ദപ്പിള്ള
- b) എം.ജി.എസ്. നാരായണൻ
- c) ഡോ.ടി.എം. തോമസ് ഐസക്**
- d) ഇ.എം.എസ് നമ്പൂതിരിപ്പാട്

62. താഴെ പറയുന്നവരിൽ ആരാണ് ‘വിദ്യാവിനോദിനി’യുടെ കർത്താവ്?

- a) സി.പി. അച്ചുതമേനോൻ**
- b) കെ. നാരായണ കുറുക്കൾ
- c) കെ. ദാമോദരൻ
- d) കല്ലൂർ ഉമ്മൻ ഫിലിപ്പോസ്

63. ‘സംഗീത നൈഷാദം’ ബന്ധപ്പെട്ടിയിരിക്കുന്നത്

- a) പൊഞ്ഞിക്കര റാഫി
- b) ടി.സി. അച്ചുതമേനോൻ**
- c) പി.കെ. കൊച്ചിപ്പൻ തകരൻ
- d) ജോർജ് മാത്തൻ

64. ‘പിറ്റ്ചർ’ എന്ന വാക്ക് ഏത് കളിയുമായി ബന്ധപ്പെട്ട് കിടക്കുന്നു?

- a) ടെന്നീസ്
- b) ബാസ്ക്കറ്റ് ബോൾ
- c) ഗോൾഫ്
- d) ബേസ്ബോൾ**

65. കൊടുപ്പുന്ന എന്നത് ആരുടെ തൂലികാനാമം ആണ്?

- a) രാമൻനായർ
- b) കൃഷ്ണപിള്ള
- c) ഗോവിന്ദ ഗണകൻ**
- d) ടി. രാമചന്ദ്രൻ

66. അഖിലേന്ത്യാ സേവനത്തിലെ അംഗങ്ങളുടെ സേവന വ്യവസ്ഥ നിർണ്ണയിക്കുന്നത്

- a) ഇന്ത്യൻ രാഷ്ട്രപതി
- b) ഇന്ത്യൻ ഭരണഘടന
- c) ഇന്ത്യൻ പാർലമെന്റ്**
- d) യൂണിയൻ പബ്ലിക് സർവ്വീസ് കമ്മീഷൻ

67. സിവിൽ സർവ്വീസുകാർക്ക് ഭരണഘടനാ

പരമായ സുരക്ഷ ഉറപ്പാക്കുന്നതാണ്

a) ആർട്ടിക്കിൾ 310

**b) ആർട്ടിക്കിൾ 311**

c) ആർട്ടിക്കിൾ 312

d) ആർട്ടിക്കിൾ 315

68. വിവരാവകാശ നിയമം 2005 പ്രകാരം അപേക്ഷകന് ഫീസില്ലാതെ നൽകപ്പെടുന്നത്

(i) അപേക്ഷകൻ ഒരു ബി.പി.എൽ വ്യക്തിയാണെങ്കിൽ

(ii) അപേക്ഷ നൽകി 30 ദിവസത്തിനുള്ളിൽ ഒരു പൊതു അതോറിറ്റി വിവരങ്ങൾ നൽകുന്നതിൽ പരാജയപ്പെടുന്നിടത്

(iii) 45-ദിവസത്തിനുള്ളിൽ ഒരു പൊതു അതോറിറ്റി തെറ്റായ വിവരങ്ങൾ അപേക്ഷകന് നൽകുന്നിടത്

(iv) ഒരു പൊതു അതോറിറ്റി തെറ്റായ വിവരങ്ങൾ അപേക്ഷകന് നൽകുന്നിടത്

a) (i) ഉം (ii) ഉം മാത്രം

b) (i) ഉം (iii) ഉം മാത്രം

**c) (i) മാത്രം**

d) (iv) മാത്രം

69. താഴെ പറയുന്നവയിൽ ഏതാണ് ഉപഭോക്തൃ സംരക്ഷണ നിയമമനുസരിച്ച് ഉപഭോക്തൃ അവകാശമല്ലാത്തത്?

a) തിരഞ്ഞെടുക്കാനുള്ള അവകാശം

b) ഉപഭോക്തൃ വിദ്യാഭ്യാസത്തിനുള്ള അവകാശം

**c) വിലപേശാനുള്ള അവകാശം**

d) കേൾക്കാനുള്ള അവകാശം അല്ലെങ്കിൽ പ്രാതിനിധ്യത്തിനുള്ള അവകാശം

70. ദേശീയ മനുഷ്യാവകാശ കമ്മീഷൻ എന്നാൽ

**a) ഒരു സ്റ്റാറ്റ്യൂട്ടറി ബോഡി ആണ്**

b) ഭരണഘടനാ ബോഡി ആണ്

c) ഒരു ഭരണഘടനാ സ്ഥാപനമോ നിയമപരമായ സ്ഥാപനമോ അല്ല

d) അധിക ഭരണഘടനാ ബോഡി ആണ്.

71. Choose appropriate modals from the options below.

Kamala took a long flight from Tanzania.

She ..... be exhausted after that. I told her, "you ..... rest, dear."

a) could, might

**b) should, must**

c) can, should

d) must, should

72. Correct the sentence if there is an error.

You can pass the examination if you answer the questions with precision, accurately and quickly.

**a) precisely, accurately and quickly**

b) with precision, with accuracy and with quick

c) with precisely, accurately and quickly

d) No error

73. Complete the sentence.

If Suhra lent us her car, we .....

a) might have gone to Aluva

b) could have gone to Aluva

**c) could go to Aluva**

d) None of these

74. Pick a preposition.

I am accustomed ..... hard work.

a) with

b) about

**c) to**

d) at

75. Fill in the blank with appropriate word.

The brothers together with their sister ..... here.

**a) are**

b) is

c) am

d) was

76. Fill in the blank.

My mother helped me ..... my



Account Details: CAREER GUIDANCE BUREAU,  
No. 912020047664926, IFSC: UTIB0000705,  
AXIS BANK, ATTINGAL  
Google Pay No. 9895463444



home work.

- a) to do
- b) doing
- c) did

**d) do**

**'Help' is generally followed by bare infinitive form.**

77. Pick the option that turns the sentence passive.

Something ..... happened or they would be here by now.

- a) must be
- b) must have
- c) must
- d) must have been

**The question is wrong as the verb (happen) is intransitive and can't be in passive form.**

78. Fill in the blanks with articles.

Mr. Bajaj was ..... very fastidious person who lived in ..... small house with ..... beautiful garden.

- a) the, a, a
- b) a, the, the

**c) a, a, a**

- d) no article, a, the

79. Single the odd one out

**a) shipwreck**

- b) plane wreck
- c) car wreck
- d) train wreck

80. Midhun has a ..... of doctors.

Select the correct form of **trust**.

**a) distrust**

- b) mistrust
- c) trustworthy
- d) mistrustful

81. Use a phrasal verb.

He does not ..... any misbehaviour in his class.

- a) get through
- b) put up with**

c) get along with

d) put down with

82. What is the meaning of *prima facie*?

- a) the most important
- b) that which comes first
- c) the face that is young

**d) at first view**

83. What is the meaning of the idiomatic expression in the following sentence?

Our entire class is *quaking in its boots*.

- a) to shiver in the legs
- b) to make squeaking sounds

**c) to tremble with fear or nervousness**

d) to laugh out aloud

84. Fill in the blank with the appropriate word.

The manager ..... (to) pay hike next month.

- a) elude
- b) illusion
- c) collude

**d) allude (alluded)**

85. Choose the word nearly opposite in meaning to the word '**fact**'.

Choose the correct tense form.

- a) lie
- b) fiction**
- c) imagination
- d) reality

86. Fie on him who professes friendship but lacks the sincerity of friend!

Change the above sentence into assertive.

a) Alas! Shame on him who professes ..... to be a great friend but lacks the sincerity of friend.

**b) It is a pity that he professes to be a great friend but lacks the sincerity of one.**

c) I cry shame on him who professes friendship but lacks the

sincerity of a friend.

d) None of the above

87. Add a question tag.

"I told you, .....?"

a) Did I

**b) Didn't I**

c) Have I

d) Haven't I

88. Without supervision, children might eat unhealthy food or lead a sedentary lifestyle.

Identify the meaning of the underlined word.

**a) inactive**

b) energetic

c) stationery

d) mobile

89. Identify the correct spelling out of the following.

a) oppurtunity, privilege

b) oportunity, priviledge

**c) opportunity, privilege**

d) opurtunity, priviledge

90. He said his job is to attend to the diseases of the eye.

Give a one-word substitute to the underlined words.

**a) ophthalmologist**

b) optician

c) occultist

d) obstetrician

91. പുല്ലിംഗ സ്ത്രീലിംഗ ജോഡിയിൽ തെറ്റായത് ഏത്?

a) യാചകൻ - യാചകി

**b) ലേഖകൻ - ലേഖക**

c) സാക്ഷി - സാക്ഷിണി

d) കാമികൻ - കാമിക

92. 'കഷ്ടപ്പെടുത്തുക' എന്ന അർത്ഥത്തിൽ പ്രയോഗിക്കുന്ന ശൈലി ഏത്?

**a) നക്ഷത്രമെണ്ണിക്കുക**

b) കാടുകയറുക

c) ഉമ്മാക്കി കാട്ടുക

d) കണ്ണിൽ മണ്ണിടുക

93. ശരിയായ രൂപമേത്?

a) ജീവശ്ശവം

**b) ജീവച്ചവം**

c) ജീവശ്വവം

d) ജീവത്ച്ചവം

94. 'സഹിതം' - വിപരീത പദം

a) അഹിതം

b) ദുർഹിതം

**c) രഹിതം**

d) അപഹിതം

95. പറയുന്ന ആൾ - ഒറ്റപ്പെടമേത്?

a) വിവക്ഷിതാവ്

**b) വക്താവ്**

c) പ്രേക്ഷിതൻ

d) പ്രയോക്താവ്

96. Strike breaker - സമാനമായ മലയാള ശൈലി

a) കാലുവാറുക

b) ഇരട്ടത്താപ്പ്

**c) കരിക്കാലി**

d) അടിയറവെയ്ക്കുക

97. അ + കാലം - ചേർത്തെഴുതുക

a) അകാലം

b) ആക്കാലം

**c) അക്കാലം**

d) ആകാലം

98. തെറ്റായ വാക്യം ഏത്?

a) ഞാൻ ക്ലാസിൽ ചേർന്നതിനു കാരണം അറിയാനുള്ള ആഗ്രഹമാണ്.

b) ഞാൻ ക്ലാസിൽ ചേർന്നതിനു കാരണം അറിയാനുള്ള ജിജ്ഞാസ കൊണ്ടാണ്.

c) ഞാൻ ക്ലാസിൽ ചേർന്നത് അറിയാനുള്ള ആഗ്രഹം കൊണ്ടാണ്.

d) ഞാൻ ക്ലാസിൽ ചേർന്നതിനു കാരണം ജിജ്ഞാസയാണ്.

**നിർദ്ദേശം തെറ്റാണ്. ചോദ്യം ശരിയായ വാക്യം ഏത് എന്നാകണമായിരുന്നു. എങ്കിൽ ഉത്തരം ഓപ്ഷൻ (c) ആകുമായിരുന്നു.**

99. 'ജലം' പര്യായപദമേത്?

a) നീരജം

b) മരണം

c) അംബുദം

d) അപ്പ്

100.കണ്ടു - പിരിച്ചെഴുതുക

a) കൺ + ടു

b) കൺ + തു

c) കൺ + ണ്ടു

d) ക + ണ്ടു

## **EXPECTED CUT OFF MARKS**

**(REVISED AS PER THE PROVISIONAL KEY)**

### **SECRETARIAT ASSISTANT**

**FOR 5000 TO 7000 CANDIDATES - 43 - 47**

**FOR 7000 TO 15000 CANDIDATES - 40 - 44**

**SUB INSPECTOR - 26-30**

## **CAREER GUIDANCE BUREAU**

കേരളത്തിൽ ഏറ്റവും കൂടുതൽ ഒന്നാം റാങ്കുകളും (48)

ഏറ്റവും കൂടുതൽ രണ്ടാം റാങ്കുകളും (37)

ഏറ്റവും കൂടുതൽ മൂന്നാം റാങ്കുകളും (41)

കരസ്ഥമാക്കിയിട്ടുള്ള (അതും ബ്രാഞ്ചുകളും പ്രൊബേഷൻ

കളും ഇല്ലാതെതന്നെ) ആറ്റിങ്ങൽ കരിയർ ഗൈഡൻസ്

ബ്യൂറോയുടെ ഓഫ്ഫീസ് ക്ലാസ്സുകളിൽ പങ്കെടുക്കു;

നിലവാരമുള്ള പരീക്ഷകളിൽ വിജയം സുനിശ്ചിതമാക്കു.

**LONG TERM BATCHES WILL BE  
COMMENCING ON DEC. 1, 2021.**

**DEGREE LEVEL MAINS CLASSES**

**STARTING ON 22.11.2021.**

**CONTACT: 8590 333 999 & 9249 77 1004**



# കോവിഡ് കാലത്തും താരത്തിളക്കത്തോടെ ആറ്റിങ്ങൽ കരിയർ ഗൈഡൻസ് ബ്യൂറോ 2021-ൽ വിവിധ വകുപ്പുകളിലായി സർവ്വീസിൽ പ്രവേശിച്ചവരിൽ ചിലർ...!



ONLINE / OFFLINE BATCHES FOR  
10th, PLUS 2 & DEGREE LEVEL  
(PRELIM & MAINS) LP/UP, HST, HSST  
STATI. ASST & KSR



## കരിയർ ഗൈഡൻസ് ബ്യൂറോ

തമ്പാനൂർ & ആറ്റിങ്ങൽ ☎ 8590 333 999 | 924 977 1004

വിവിധ പരീക്ഷകളിലായി 48 ഒന്നാം ഓദ്യോഗിക...! ആദ്യ 100 ഓദ്യോഗികങ്ങളിൽ  
മാത്രം 2200 ലേറെ പേർ...! പതിനായിരത്തിലേറെ ഉദ്യോഗസ്ഥർ...!!!